



بسمه تعالی

واحد درسی : چگونه احساساتمان را بیان کنیم؟

موضوع : ارزشیابی دی ماه (مداد و کاغذی)

تاریخ : دی ماه

پایه : سوم

شماره :

عدد سه هزار و چهارصد و نود و دو را نوشته و در جدول ارزش مکانی قرار دهید و برای آن شکل بکشید .

عدد: \_\_\_\_\_

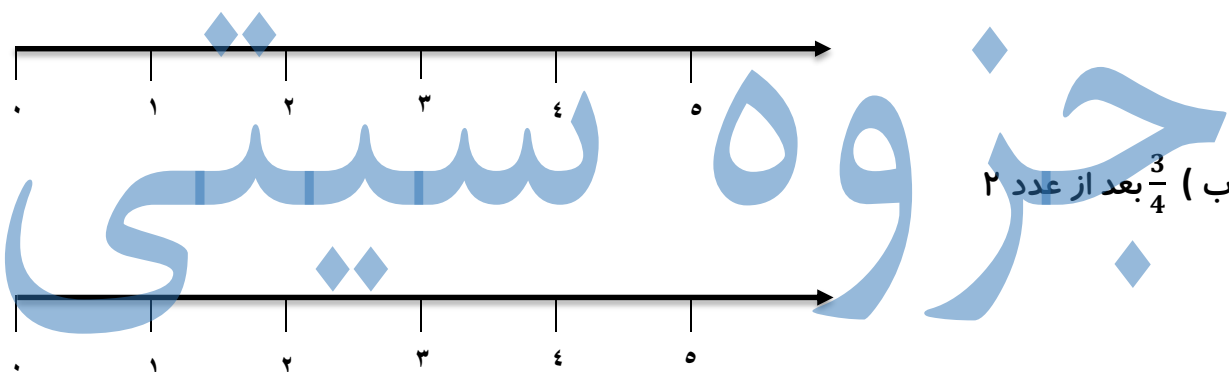
یکان	دهگان	صدگان	هزارگان

۱

کسر های زیر را روی محور نشان دهید

الف)  $\frac{4}{5}$

۲



ب)  $\frac{3}{4}$  بعد از عدد ۲

کوچکترین و بزرگترین عدد چهاررقمی که با رقم های ۲, ۰, ۴, ۸ ساخته می شود را بنویسید .

۳

۲۰ ریال ایران برابر ۱۰۰۰ لیره ی کشوری است .

الف) ۶۰ ریال چند لیره است ؟

(حتما جدول رسم کنید)

۴

علامت مناسب بگذارید .

۲۳۴۰ ریال  ۲۳۴ تومان

۳ کیلوگرم  ۲۰۰۰ گرم

۵

۲۳۰ + ۷۴۵  ۴۸۵۰

۳۴۵ متر  ۲ متر و ۴۵ سانتی متر

برای اندازه گیری یک جعبه آن را در یک کفه ی ترازو و در کفه ی دیگر یک وزنه ی ۲ کیلو گرمی و یک وزنه ی ۵۰۰ گرمی و دو وزنه ی ۱۰۰ گرمی قرار دادیم جرم این جعبه چند کیلو گرم و گرم است ؟

۶

جاهای خالی را پر کنید .

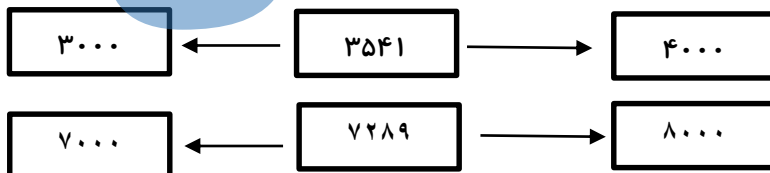
۳۴۵۲ برابر است با \_\_\_\_\_ ده تایی و \_\_\_\_\_ صد تایی و \_\_\_\_\_ هزار تایی و \_\_\_\_\_ یکی

۷

۳۴۲ سانتی متر برابر است با \_\_\_\_\_ متر و \_\_\_\_\_ متر

۲۲ میلی متر برابر است با \_\_\_\_\_ سانتی متر و \_\_\_\_\_ سانتی متر

هر کدام از اعداد زیر به کدامیک نزدیک تر است آن را رنگ کنید.



۸

زمین کشاورزی داریم اگر نصف آن را پیاز کاشته باشیم و نصف دیگر آن را سه قسمت کرده باشیم و در یک قسمت آن سیب زمینی کاشته باشیم

الف) چه کسری پیاز کاشته شده است؟

ب) چه کسری سیب زمینی کاشته شده است؟

ج) چه کسری چیزی کاشته نشده است؟

۹




۱۰

دایره ای به شعاع ۳ سانتی متر رسم کنید  
الف) به چهار قسمت مساوی آن را تقسیم کنید و سه قسمت آن را رنگ کنید  
ب) چه کسری از دایره رنگ شده است؟  
ج) چه کسری از دایره رنگ نشده است؟


جزوه سیپی

یکان	دهان	صدها	میان
۲	۹	۳	۳

۱- عدد: ۳۴۹۲



۲ الف)  $\frac{4}{5}$



ب)  $\frac{3}{4}$  بعد از عدد ۲

۳- کوچکترین: ۲۰۴۸ / بزرگترین: ۸۴۲۰

الف) 

۲۰	۱۰۰۰
۶۰	?


 $\frac{۲۰}{۶۰} = \frac{۱۰۰۰}{?}$

۳ لایه  $\square$   $\frac{۲۰۰۰}{۶۰} = ۳۳.۳۳$   $\square$  ۳۳۴  
 ۲ متره سانی متر  $\square$   $\frac{۷۴۵ + ۲۳۰}{۹۷۵} = ۰.۷۶۴$   $\square$  ۳۴۵

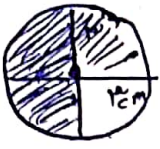
۶- ۲ لایه و ۱ لایه  $\square$   $۲۰۰۰ + ۵۰۰ + (۲ \times ۱۰۰) = ۲۷۰۰$

- ۷- ۱- ۵ تا ده تایی - ۴ تا صد تایی - ۳ تا هزار تایی - ۲ تا بیلی  
 ۲- ۳ متره - ۲ سانی متر  
 ۳- ۲ سانی متر و ۰.۲ سانی متر  $\leftarrow$  ۲.۲ سانی متر

- ۸- ۱- ۳۴۶ به ... نزدیک تر است  
 ۲- ۷۲۸۹ به ... نزدیک تر است



۹- الف)  $\frac{1}{2}$  ب)  $\frac{1}{6}$  ج)  $\frac{2}{6} = \frac{1}{3}$



۱- الف

۱/۲ ۳/۴

# جزوه سیتی